

La Terre (1)

Sa représentation

1- La Terre a la boueotte

Complète et colorie le schéma représentant notre expérience avec la lampe et le globe :

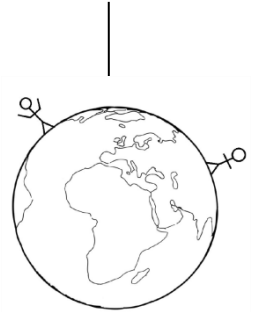

La Terre est une énorme **boule**. C'est une planète.

La Terre tourne **autour du soleil**. La Terre **tourne aussi sur elle-même** en 24h.

C'est cette rotation qui explique l'alternance du jour et de la nuit :

Le soleil éclaire la moitié de la Terre, c'est le **jour**.

L'autre moitié n'est pas éclairée, c'est la **nuit**.



2- Représentations de la Terre

Complète et relie :

On représente la Terre sous forme d'une maquette ronde appelée le **globe** terrestre.

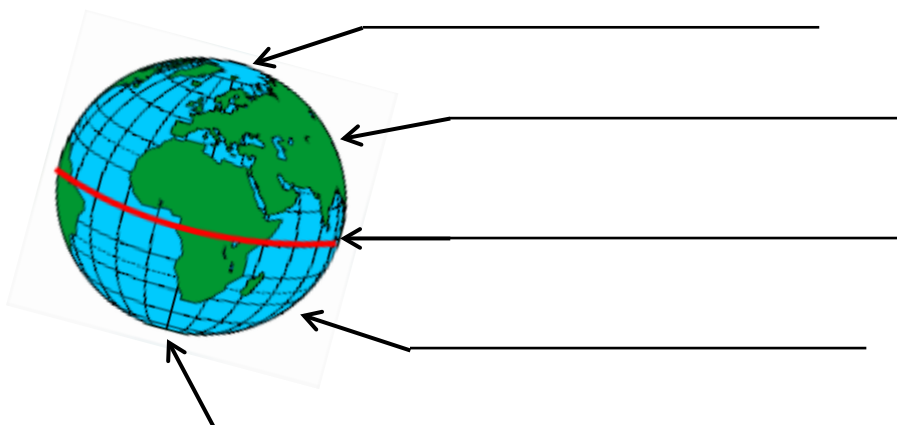


On peut aussi la représenter à plat, ce qui permet de voir toute la Terre d'un seul coup d'œil : c'est un **planisphère**.



3- Se repérer

Ecris le nom de chaque partie du globe: **équateur**, **pôle sud**, **pôle nord**, **hémisphère sud**, **hémisphère nord**



La Terre (1)

Sa représentation

1- La Terre a la bougeotte

Complète et colorie le schéma représentant notre expérience avec la lampe et le globe :

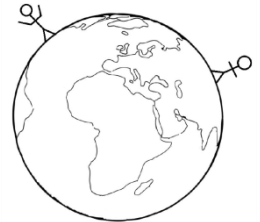

La Terre est une énorme _____ . C'est une planète.

La Terre tourne _____ . La Terre _____ en 24h.

C'est cette rotation qui explique l'alternance du jour et de la nuit :

Le soleil éclaire la moitié de la Terre, c'est le _____ .

L'autre moitié n'est pas éclairée, c'est la _____ .



2- Représentations de la Terre

Complète et relie :

On représente la Terre sous forme d'une maquette ronde appelée

le _____ terrestre.



On peut aussi la représenter à plat, ce qui permet de voir

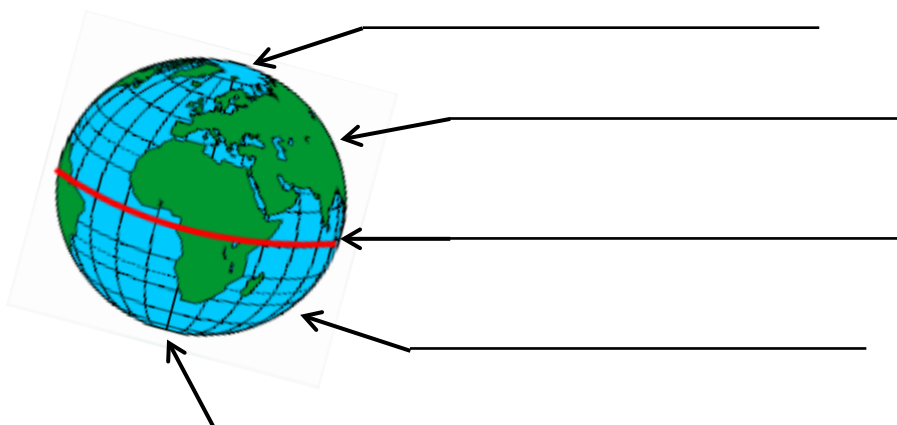
toute la Terre d'un seul coup d'œil :

c'est un _____ .

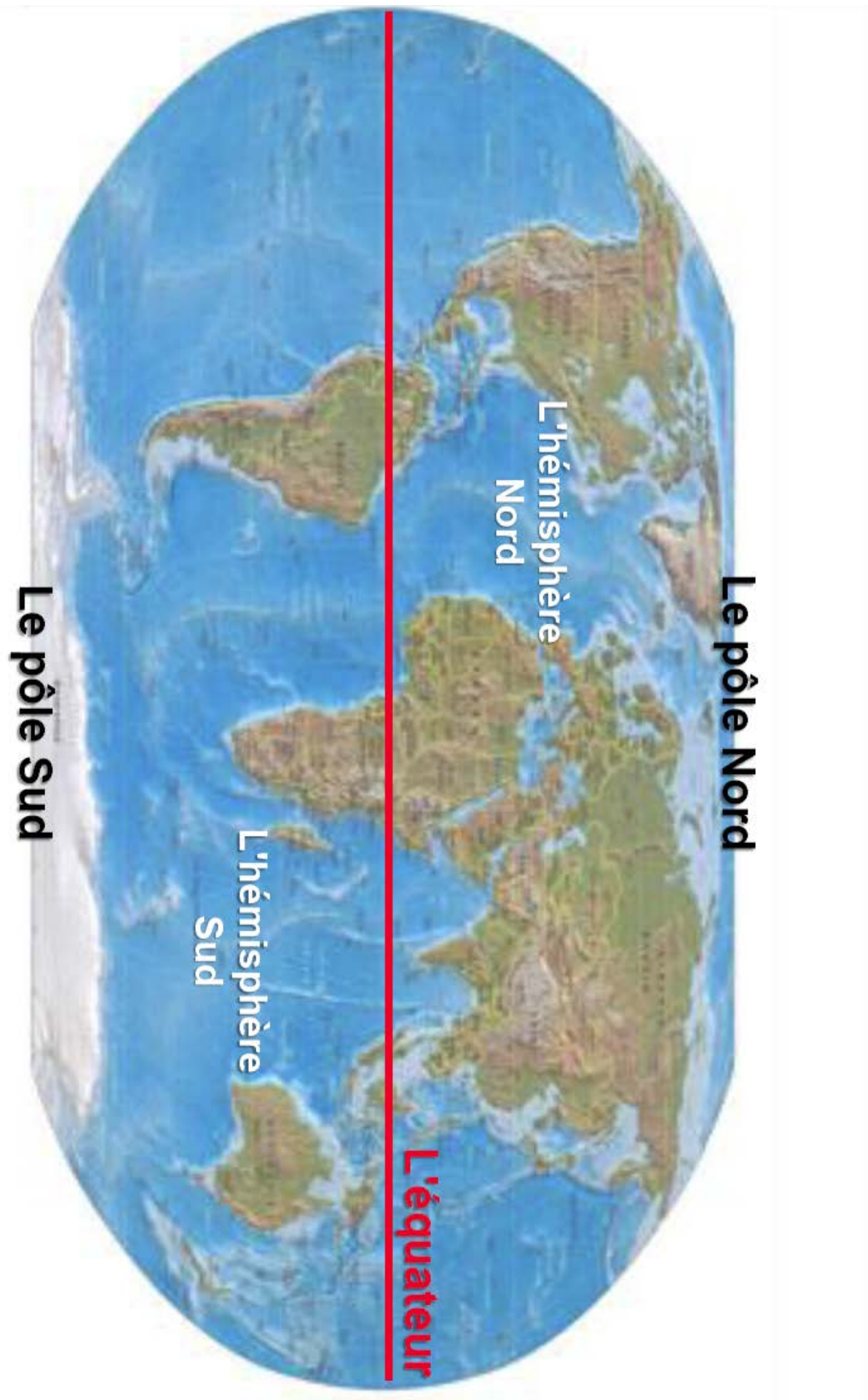


3- Se repérer

Ecris le nom de chaque partie du globe: équateur, pôle sud, pôle nord, hémisphère sud, hémisphère nord







Le pôle Nord

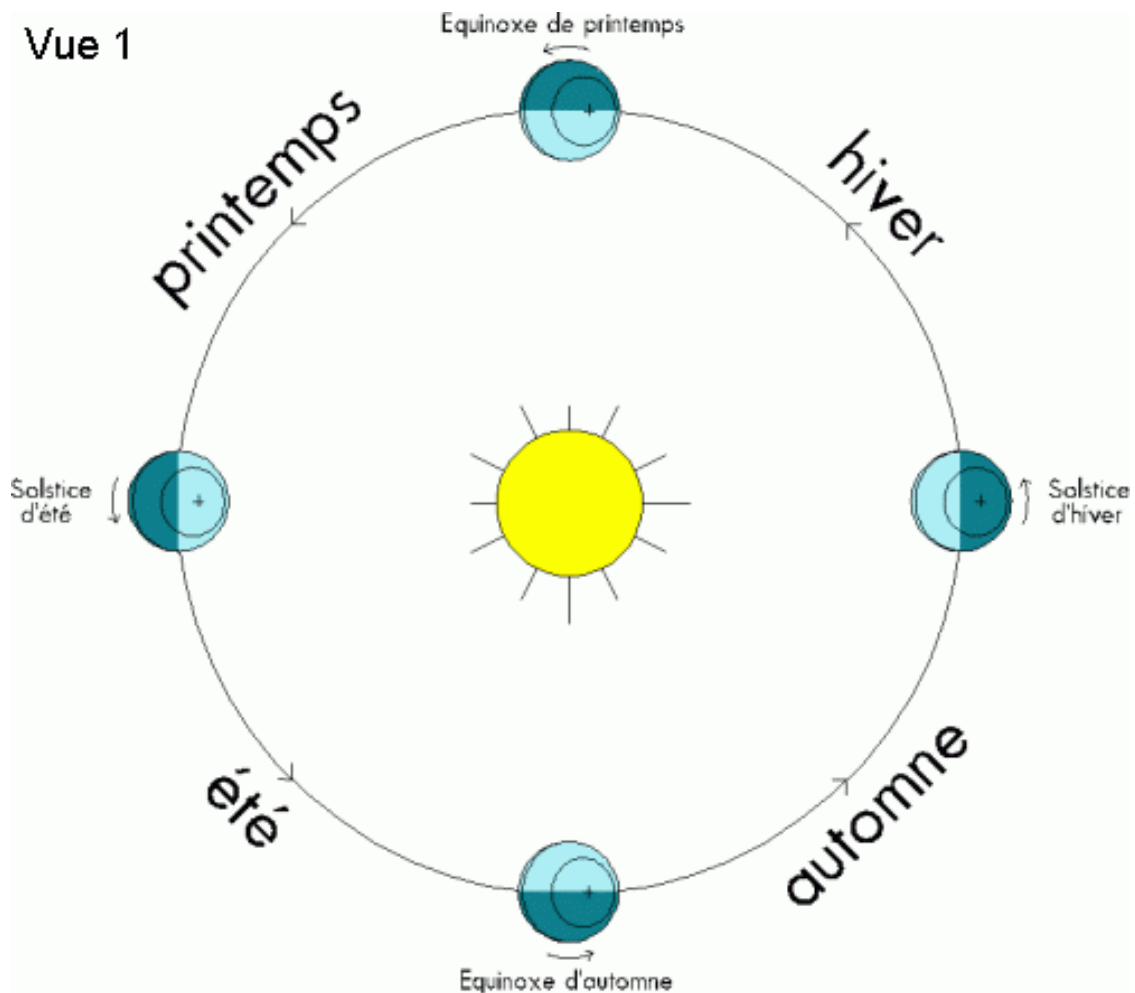
L'hémisphère
Nord

L'hémisphère
Sud

L'équateur

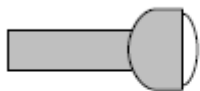
Le pôle Sud

Vue 1



A) La lampe et le globe terrestre

- 1) Colorie en jaune l'ampoule de la lampe de poche.
- 2) Colorie en jaune la partie du globe terrestre éclairée.
- 3) Colorie en bleu la partie du globe non éclairée.



B) Le Soleil et la Terre

- 1) Colorie le Soleil en jaune
- 2) Colorie en jaune la partie de la Terre éclairée par le Soleil
- 3) Colorie en bleu la partie de la Terre non-éclairée par le Soleil.
- 4) Le bonhomme qui lève les bras est-il dans le jour ou dans la nuit ?
- 5) L'autre bonhomme est-il dans le jour ou dans la nuit ?

